

- 4 神戸女学院中学部2年生の生徒は、社会科の授業で、歴史上の人物を1人選び、その人物について調べて発表することになりました。以下は、花子さんの班が吉田茂について調べ、話し合っている様子です。よく読んで、下の問いに答えなさい。

花子 「吉田茂は、1878年に竹内綱の子として生まれ、1881年に吉田健三の養子になりました。」

良子 「実父の竹内綱は土佐藩出身で、明治時代には自由民権運動に尽力しました。自由党の役員であった竹内綱は、自由党をつくった【 A 】が岐阜での演説終了後に襲われて負傷した現場に居合わせたそうです。また、①第1回衆議院議員総選挙で当選し、日本最初の国会議員になりました。」

正子 「養父の吉田健三は竹内綱の親友で、実子がいなかったことから吉田茂を養子としました。吉田健三はイギリスとの関係が深い貿易商で、数々の事業を手がけていました。」

愛子 「吉田茂には二人の父親がいたんですね。」

花子 「もう一人、吉田茂の父と呼ばれる人物がいます。牧野伸顕です。吉田茂は牧野伸顕の娘と結婚しました。つまり、牧野伸顕は吉田茂の妻の父にあたります。牧野伸顕は、明治時代から昭和時代前期に活躍した外交官・政治家です。」

良子 「1871年、牧野伸顕は、岩倉使節団の一員であった父の【 B 】に同行し、アメリカに留学した経験があります。ドイツが②第一次世界大戦の休戦協定に調印した翌年、パリで開かれた講和会議には、日本の代表者の一人として参加しました。」

正子 「当時、外交官として中国で勤務していた吉田茂は、牧野伸顕に手紙を送り、パリ講和会議を見学できるようにイギリスなどへ勤務地を変更してほしいと頼んだそうです。そして、牧野伸顕にしたがってパリ講和会議に参加しました。」

愛子 「その後、1936年には、外務大臣の候補に吉田茂の名前があがったそうですね。しかし、吉田茂は陸軍の反対により入閣できず、イギリス駐在大使となりました。」

花子 「吉田茂はイギリス駐在大使になると、イギリスに日英協調を呼びかけました。しかし、その最中に、③日中戦争が始まりました。日英交渉が失敗に終わり、吉田茂は帰国すると、1939年、外務省を去りました。」

良子 「吉田茂が外務省を去った年は、④第二次世界大戦が始まった年ですね。その後、吉田茂は日米開戦を回避しようと努力しましたが、⑤1941年12月、日本はハワイの真珠湾にあるアメリカの海軍基地を攻撃し、ほぼ同時に⑥イギリス領のマレー半島にも上陸しました。」

正子 「⑦1945年、戦争に敗れた日本は、アメリカを中心とする連合国軍に占領されました。⑧その指示のもとで、日本政府は戦後改革を行いました。敗戦後、吉田茂は外務大臣を務め、続いて、第1次吉田茂内閣を組織しました。その後、片山哲内閣、芦田均内閣を経て、第2次から第5次まで長期にわたって内閣総理大臣を務めました。」

愛子 「1951年、内閣総理大臣であった吉田茂は、サンフランシスコ講和会議に出席しました。この会議で日本は、⑨サンフランシスコ平和条約に調印しました。また、同日、アメリカとの間で（ 1 ）条約にも調印しました。」

花子 「サンフランシスコ講和会議に参加した一人に池田勇人がいますね。池田勇人はのちに内閣総理大臣となった人物です。」

良子 「吉田茂内閣で重要な役職についた人物のなかには、そのうち内閣総理大臣に就任している人が池田勇人のほかにもいますね。（ 2 ）は第2次吉田茂内閣の官房長官でしたが、1964年から1972年まで内閣総理大臣を務め、1974年にノーベル平和賞を受賞しました。」

正子 「今度は、（ 2 ）について調べてみるのもおもしろそうですね。」

問1 ( 1 )、( 2 )に入る最も適当な語句を答えなさい。ただし、以下の注意にしたがうこと。

〈注意〉

- \* ( 1 )は解答欄にしたがって漢字で答えなさい。
- \* ( 2 )は姓名を漢字で答えなさい。

問2 【 A 】、【 B 】に入る人名として最も適当なものを次のア～カのうちからそれぞれ選び、記号で答えなさい。なお、【 B 】は薩摩藩出身で吉田茂が生まれた年に暗殺された人物です。

- ア. 大隈重信      イ. 大久保利通      ウ. 西郷隆盛      エ. 木戸孝允  
オ. 板垣退助      カ. 伊藤博文

問3 下線部①が行われた時の選挙権に関する説明として最も適当なものを次のア～エのうちから選び、記号で答えなさい。

- ア. 選挙権を持つ者は一定の金額以上の税金を納めた満20歳以上の男性のみで、日本の全人口の約1.1%に過ぎなかった。
- イ. 選挙権を持つ者は一定の金額以上の税金を納めた満20歳以上の男性のみで、日本の全人口の約10.1%に過ぎなかった。
- ウ. 選挙権を持つ者は一定の金額以上の税金を納めた満25歳以上の男性のみで、日本の全人口の約1.1%に過ぎなかった。
- エ. 選挙権を持つ者は一定の金額以上の税金を納めた満25歳以上の男性のみで、日本の全人口の約10.1%に過ぎなかった。

問4 下線部②について、次の問いに答えなさい。

1) 第一次世界大戦に関する説明として最も適当なものを次のア～エのうちから選び、記号で答えなさい。

- ア. 日本は同盟を結んでいたイギリスの陣営について、第一次世界大戦に加わり、戦勝国のひとつとなった。
- イ. ヨーロッパの不景気の影響が日本にも及び、第一次世界大戦中に日本の輸出額は大幅に減少して不景気に見舞われた。
- ウ. ヨーロッパの影響を受けて日本国内でも社会運動が活発となり、第一次世界大戦中に全国水平社の創立大会が開かれた。
- エ. 第一次世界大戦後に日本が韓国を併合して植民地化すると、韓国で大規模な独立運動が起こった。

2) 第一次世界大戦後には国際連盟が発足しました。国際連盟が発足した年から約6年間、その事務次長を務めた日本人は誰ですか。姓名を漢字で答えなさい。

問4 下線部①について、吉野ヶ里遺跡に関する説明として適当でないものを次のア～エのうちから1つ選び、記号で答えなさい。

- ア. 中国製の貨幣が出土している。
- イ. 集落のまわりに深い堀をめぐらせている。
- ウ. かめ棺におさめられた人骨が出土している。
- エ. 世界文化遺産に登録されている。

問5 下線部②に関する説明として適当でないものを次のア～エのうちから1つ選び、記号で答えなさい。

- ア. 地面を掘って数本の柱を立て、その上に屋根をかけてつくられた竪穴住居に住んでいた。
- イ. ノウサギなどの動物やタイなどの魚をとったり、クリを栽培したりなどして食べ物を手に入れていた。
- ウ. 銅鐸が多く出土していることから、銅鐸を用いてうらないやまじないを行っていたと考えられている。
- エ. 三内丸山遺跡ではとれない黒曜石などの加工品が出土していることから、遠方と交流していたと考えられている。

3 次の文章に登場する遺跡や古墳は、縄文時代、弥生時代、古墳時代のいずれかの時代と深く関係しています。よく読んで、下の問いに答えなさい。

- ( 1 ) の登呂遺跡は、1943年、戦闘機のプロペラをつくる工場を建てる時に偶然発見されました。この遺跡の詳しい発掘調査は1947年に始められました。
- 邪馬台国があった場所については、九州地方とする説と近畿地方とする説があり、それぞれ ( 2 ) の①吉野ヶ里遺跡や ( 3 ) の纏向遺跡などが注目されています。中国の歴史書によると、( 4 ) が治めていた邪馬台国は【 A 】ほどのくにを従えていたとされています。
- ( 5 ) の藤ノ木古墳は、法隆寺の近くにある円墳です。金銅製の冠やくつなどが見つかっています。
- ( 6 ) の②三内丸山遺跡からは、大規模な集落のあとが見つかっています。ここでは、今から約【 B 】年前から約1500年間にわたって人々が暮らしていたと考えられています。
- 熊本県の ( 7 ) 古墳と埼玉県の ( 8 ) 古墳からは、「ワカタケル大王」の名前が刻まれた刀剣が見つかっています。

問1 ( 1 )～( 8 )に入る最も適当な語句を答えなさい。ただし、以下の注意にしたがってください。

〈注意〉

- \* 都道府県については「都」「道」「府」「県」まで答えること。
- \* ( 1 )～( 3 )は都道府県を漢字で答えなさい。
- \* ( 4 )は解答欄にしたがって人名を漢字で答えなさい。
- \* ( 5 )、( 6 )は都道府県を漢字で答えなさい。
- \* ( 7 )、( 8 )は解答欄にしたがって古墳の名前を漢字で答えなさい。

問2 【 A 】に入る数字はどれですか。最も適当なものを次のア～エのうちから選び、記号で答えなさい。

ア. 30      イ. 100      ウ. 300      エ. 1000

問3 【 B 】に入る数字はどれですか。最も適当なものを次のア～エのうちから選び、記号で答えなさい。

ア. 2500      イ. 5500      ウ. 10000      エ. 12000

問5 下線部③について、日中戦争が始まった翌年に起こった出来事として最も適当なものを次のア～エのうちから選び、記号で答えなさい。

- ア. 治安維持法が定められた。
- イ. 国家総動員法が定められた。
- ウ. 小学校が国民学校と改められた。
- エ. 徴兵年齢が19歳に引き下げられた。

問6 下線部④について、第二次世界大戦中、日本人の外交官がリトアニアで勤務していた時に、迫害を受けていたユダヤ人に対して、日本を通過するビザ（日本に入国するための許可証）を発行しました。この外交官は誰ですか。姓名を漢字で答えなさい。

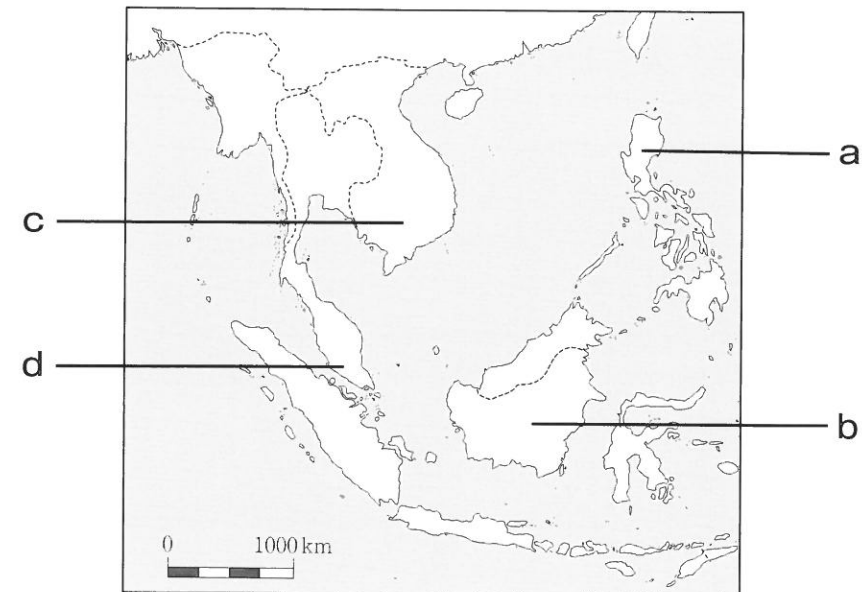
問7 下線部⑤について、次の(あ)～(う)は1941年12月以降に起こった出来事です。起こった順に並べ替えたものとして最も適当なものを次のア～カのうちから選び、記号で答えなさい。

- (あ) ミッドウェー海戦で日本は敗北した。
- (い) サイパン島の日本軍守備隊が全滅した。
- (う) 3月10日の東京大空襲で10万人以上の人々が亡くなった。

- ア. (あ) → (い) → (う)      イ. (あ) → (う) → (い)
- ウ. (い) → (あ) → (う)      エ. (い) → (う) → (あ)
- オ. (う) → (あ) → (い)      カ. (う) → (い) → (あ)

問8 下線部⑥はどこにありますか。最も適当なものを〈地図〉のa～dのうちから選び、記号で答えなさい。

〈地図〉



問9 下線部⑦について、1945年、連合軍総司令部最高司令官として来日したのは誰ですか。解答欄にしたがって人名をカタカナで答えなさい。

問10 下線部⑧の内容として適当でないものを次のア～エのうちから1つ選び、記号で答えなさい。

- ア. 労働組合の結成をすすめた。
- イ. 6・3制の義務教育が始まった。
- ウ. 特定の大企業が解体された。
- エ. 小作農家を増やす政策を行った。

問11 下線部⑨について、サンフランシスコ平和条約に関する説明として最も適当なものを次のア～エのうちから選び、記号で答えなさい。

- ア. この条約により、日本が台湾を放棄すると定められた。
- イ. この条約により、小笠原諸島が日本に復帰すると定められた。
- ウ. この条約により、日本はソ連と国交を回復した。
- エ. この条約を調印した会議にインドは招かれなかった。

問1 ( 1 )～( 10 )に入る最も適当な語句をそれぞれ漢字2字で答えなさい。ただし、以下の注意にしたがうこと。

〈注意〉

- \* ( 2 ) は解答の一部が解答欄に記入してあります。解答欄にしたがって答えなさい。
- \* ( 6 ) は解答欄にしたがって答えなさい。

問2 【 A 】～【 E 】に入る県名を漢字で答えなさい。

問3 本文中の【 A 】県～【 D 】県は、ある農産物の出荷量が全国で最も多いことで知られています(2017年の出荷量。農林水産省)。それぞれの農産物ですか。最も適当なものを次のア～エのうちから選び、記号で答えなさい。

- ア. なす      イ. すだち      ウ. いよかん      エ. オリーブ

問4 下線部①について、次の問いに答えなさい。

1) 源氏と平氏の戦いが起こった順として最も適当なものを次のア～エのうちから選び、記号で答えなさい。

- ア. 一ノ谷の戦い→屋島の戦い→石橋山の戦い→倶利伽羅峠の戦い→壇ノ浦の戦い
- イ. 石橋山の戦い→一ノ谷の戦い→屋島の戦い→倶利伽羅峠の戦い→壇ノ浦の戦い
- ウ. 石橋山の戦い→倶利伽羅峠の戦い→一ノ谷の戦い→屋島の戦い→壇ノ浦の戦い
- エ. 石橋山の戦い→一ノ谷の戦い→倶利伽羅峠の戦い→屋島の戦い→壇ノ浦の戦い

2) 1) であげた源氏と平氏の戦いは、すべて同じ世紀に起こっています。いつのことですか。最も適当なものを次のア～エのうちから選び、記号で答えなさい。

- ア. 11世紀      イ. 12世紀      ウ. 13世紀      エ. 14世紀

問5 下線部②は誰ですか。解答欄にしたがって姓名を漢字で答えなさい。

問6 下線部③は何県にありますか。県名を漢字で答えなさい。

2 花子さんと良子さんが休み時間に四国旅行の計画を立てています。よく読んで、下の問いに答えなさい。

花子 「神戸から高速バスに乗り、明石海峡大橋を<sup>あかしかいきょう</sup>通<sup>わ</sup>って（ 1 ）島を縦断し、（ 2 ）  
を<sup>わた</sup>って四国へ渡るのはどうかしら。」

良子 「まず四国の【 A 】県に入るわけね。（ 2 ）から、うずしおが見えるかな。」

花子 「8月に行くなら、（ 3 ）おどりを見物したいな。【 A 】県の昔の国名がついて  
いる伝統芸能だもの。」

良子 「昔の国名がついたものと言え、【 B 】県は（ 4 ）うどん<sup>ど</sup>んで有名ね。【 A 】  
県の北隣<sup>どなり</sup>だし、食べに行きたいなあ。」

花子 「【 B 】県に足を延ばすなら、①源義経<sup>みなもと</sup>が平氏<sup>へいし</sup>を破ったこと<sup>よしつね</sup>で有名な屋島<sup>やしま</sup>にも行っ  
てみたいなあ。県庁所在地の（ 5 ）市にあるそうだから。（ 5 ）市が運営して  
いる屋島の公式観光情報サイトを見てみたの。屋島には平清盛<sup>たいらのきよもり</sup>の孫にあたる（ 6 ）  
天皇の仮御所<sup>かりごしよ</sup>もあったそうよ。屋島を見学したら、その後は平家<sup>へいけ</sup>の落人<sup>おちうど</sup>伝説のある祖谷<sup>い</sup>  
のかずら橋にも行きたいわ。」

良子 「でもずいぶん山深いところみたい。地図を見ると、祖谷のかずら橋から少し南に行く  
と、もう【 C 】県よ。」

花子 「それなら、祖谷のかずら橋は今回あきらめて、屋島を見学したあと高速道路を使って  
【 D 】県に行くのはどうかしら。【 D 】県の県庁所在地（ 7 ）市にある  
（ 8 ）温泉本館にも行ってみたいの。②小説『坊っちゃん』<sup>ぼ</sup>で有名な小説家もよく  
通っていたそうよ。」

良子 「（ 8 ）温泉に行くことを考えるなら、帰りは【 D 】県（ 9 ）市で、世界に  
も知られるタオルの生産工程も見学してみたいわ。そこから『しまなみ海道』<sup>かいどう</sup>を<sup>か</sup>通<sup>い</sup>って、  
③尾道市<sup>おのみち</sup>に渡る、というルートで本州<sup>もど</sup>に戻るの<sup>もど</sup>はどうかしら。」

先生 「本州と四国を橋でつなぐルートはもう一つありますよ。本州の【 E 】県と四国の  
【 B 】県を（ 10 ）大橋でつなぐルートで、本州と四国を橋で結ぶ3ルートのう  
ちで最も早く、1988年に開通しました。」

花子 「本州と四国の行き来にどのルートを使うかでいろいろな計画が立てられそうですね。」

— このページは余白です。 —

5 次の旗に関する会話文をよく読み、下の問いに答えなさい。



—— このページは余白です。 ——

良子 「先生、これは何の旗ですか。」

先生 「の旗ですね。」

正子 「ってよく耳にしますが、どういった組織なのですか。」

先生 「世界平和を守り、社会を発展させていくことを目的として、1945年につくられました。本部は（ 1 ）市にあります。本部にある会議場では、すべての①加盟国の代表が集まってものごとを決める会議である（ 2 ）が行われます。には、ほかにもさまざまな目的のために設立された機関がありますよ。」

花子 「ユネスコや②ユニセフがそうですね。」

良子 「ところでこの旗に描かれているのは何ですか。」

先生 「真ん中にあるのは北極点を中心とした地図です。平和の象徴であるオリーブの枝に囲まれています。」

花子 「先生、この地図はどこか不思議な感じがします。北極点を中心のはずなのに、北半球だけでなく、南半球も描かれています。」

先生 「花子さん、とてもいいところに気づきましたね。この地図は、特別な図法で描かれていて、北極点から南半球にある大陸や島々まで描くことができるのです。」

正子 「北半球から南半球まで人間が住む地域全体を表すこの図法が、世界平和を願うの旗にふさわしいと考えられたのですね。」

1) 【 A 】に入るのはどれですか。最も適当なものを次のア～オのうちから選び、記号で答えなさい。

ア. 小麦    イ. 牛乳・乳製品    ウ. 果実    エ. 大豆    オ. 野菜

2) 【 B 】に入る最も適当な語句を解答欄<sup>らん</sup>にしたがって漢字2字で答えなさい。

3) 【 C 】に入る最も適当な語句を答えなさい。

問1 【 A 】にあてはまる語句を漢字4字で答えなさい。

問2 1947年、この旗が【 A 】の旗として採択<sup>たく</sup>された時、日本は【 A 】とどのような関わりがありましたか。次のア～エのうちから1つ選び、記号で答えなさい。

ア. 日本は世界平和の理念に賛同し、旗のデザイン採択に賛成票を投じた。

イ. 日本はアメリカ合衆<sup>がっしゅうこく</sup>国の意見にしたがい、旗のデザイン採択に反対票を投じた。

ウ. 日本は安全保障理事会の一員として、旗のデザインを提案する立場にあった。

エ. 日本は旗のデザイン採択に投票していない。

問3 ( 1 )、( 2 )に入る最も適当な語句を答えなさい。ただし、以下の注意にしたがうこと。

〈注意〉

\* ( 2 )は、漢字で答えなさい。

問4 下線部①について、次の問いに答えなさい。

1) 2020年現在の加盟国は何カ国ですか。解答欄<sup>らん</sup>にしたがって答えなさい。

2) 最も新しい加盟国は、2011年に独立した、アフリカ大陸にある国です。解答欄にしたがって、国名を答えなさい。

3) 加盟国の1つである日本も国際平和に貢献<sup>こうけん</sup>しようとしています。自衛隊は2012年から2017年まで、2)で答えた国において国際平和に関する活動に参加しました。【 A 】の要請<sup>せい</sup>に応じて自衛隊が参加するこのような活動の総称<sup>しょう</sup>をアルファベットの略称で答えなさい。

問5 現在、下線部②は、1989年に【 A 】で採択されたある条約をその活動の基本原則としています。「生きる権利」、「育つ権利」、「守られる権利」、「参加する権利」を4つの柱とするこの条約は何ですか。解答欄にしたがって答えなさい。

6 次のA～Fにおいて、最も適当な組み合わせを下の【組み合わせ欄】から選び、1～4の番号で答えなさい。なお、年代が書かれていない場合はすべて現在のことを、国名が書かれていない場合はすべて日本のことを述べています。

【組み合わせ欄】

アとイの両方とも正しい場合…………… 1	アが正しく、イが誤っている場合…………… 2
アが誤っていて、イが正しい場合…………… 3	アとイの両方とも誤っている場合…………… 4

A	ア 日本国憲法は、国民主権、基本的人権の尊重、平和主義の3つを原則として、1946年5月3日に公布され、1947年11月3日に施行されました。現在、5月3日と11月3日のどちらも国民の祝日です。
	イ 日本国憲法は大きく分けて、「人権の保障」と「政治のしくみ」から構成されています。日本国憲法には前文と103条の条文があります。

B	ア 日本国憲法では、天皇は日本の国や国民のまとまりの象徴であり、国の政治に関する権限をもっていると定められています。
	イ 日本国憲法では、天皇の主な国事行為として、衆議院と参議院から構成される国会を召集し、また参議院を解散することが定められています。

C	ア 国会では、選挙で選ばれた国会議員が、法律や予算、条約の承認などについて話し合い、多数決で決めています。
	イ 国民の代表者である国会議員は、国民により選挙で選ばれます。国会議員になろうとする人は、立候補し、街頭演説や選挙公報などを通じて、どのような考えで政治を進めるつもりなのかを有権者に伝えます。

D	ア 内閣の最高責任者は内閣総理大臣です。首相とも呼ばれています。内閣総理大臣と国務大臣は、国会で任命されます。
	イ 内閣のもとで実際に仕事をするのは、省や庁などです。国務大臣の多くは、担当する省の大臣として、分担された仕事を進めていきます。

1) 各グラフに使われている色や模様は、左の〈表〉に示した、全国の8つの地方を表しています。例えば、どのグラフでも□は九州地方、□は四国地方を表しています。北海道地方を表しているもの、近畿地方を表しているものを次のア～カのうちからそれぞれ選び、記号で答えなさい。



2) 農業生産額のグラフで最も大きな割合を示しているのは九州地方です。九州地方の農業生産額の内訳はどのようになっているのでしょうか。最も大きな割合を占めるものを次のア～エのうちから選び、記号で答えなさい。



問2 花子さんは全て同じ円の大きさをグラフで描きましたが、同じクラスの愛子さんは、それぞれの生産額の総額によって円の大きさを変えることを思いつきました。愛子さんのグラフで「農業生産額」「漁業生産額」「工業生産額」の円の大きさはどのようになるのでしょうか。小さい方から並べたときの順序として最も適当なものを次のア～エのうちから選び、記号で答えなさい。

- ア. 農業生産額 < 漁業生産額 < 工業生産額
- イ. 漁業生産額 < 農業生産額 < 工業生産額
- ウ. 農業生産額 < 工業生産額 < 漁業生産額
- エ. 漁業生産額 < 工業生産額 < 農業生産額

問3 同じクラスの良子さんは、日本の産業の中でも農業に注目し、特に日本の食料生産について考えることにしました。次の文章は良子さんがまとめたものの一部です。

教科書や資料集、地図帳を調べてみると、1960年から2017年までの変化を示した2つのグラフ\*が目にとまりました。1つ目のグラフは「食料品別の輸入量の変化」です。1960年と2017年を比べると、小麦、牛乳・乳製品、果実、大豆、野菜、肉、米のいずれも、輸入量が増加していることがわかります。また、輸入量が最も多いのは1960年も2017年も【 A 】です。いっぽう、もう1つのグラフ「日本のおもな農産物と水産物の生産量の変化」を見ると、1960年から2017年まで国内での【 A 】の生産量は少ないままで、さらに、この30年ほどは全体的に生産量が下降気味です。つまり、日本は食料の確保を輸入に頼っている状態です。

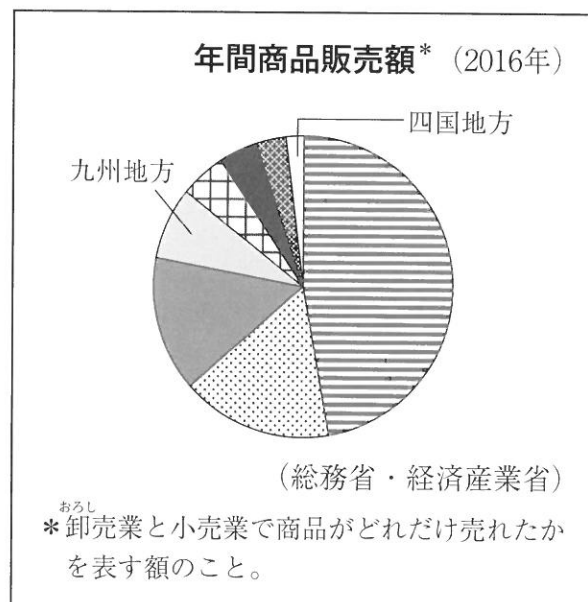
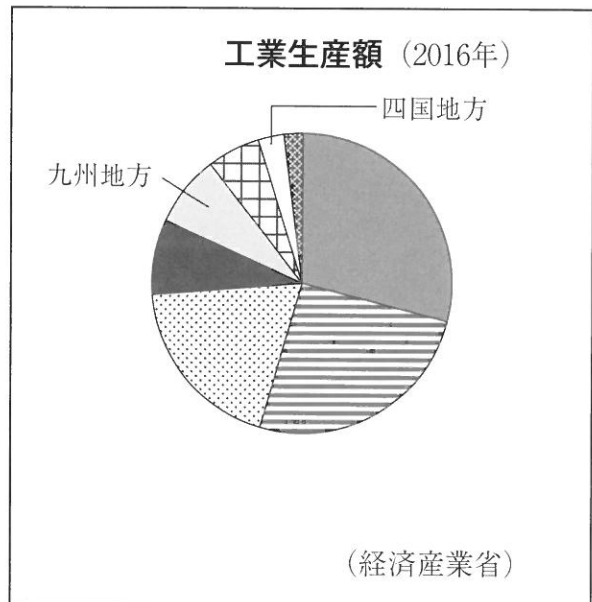
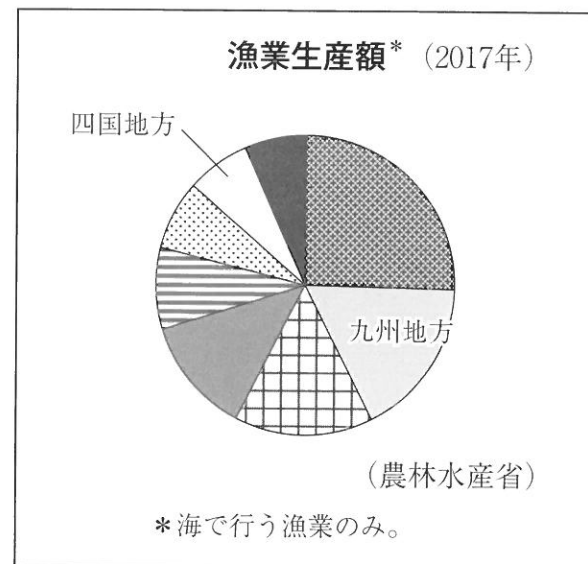
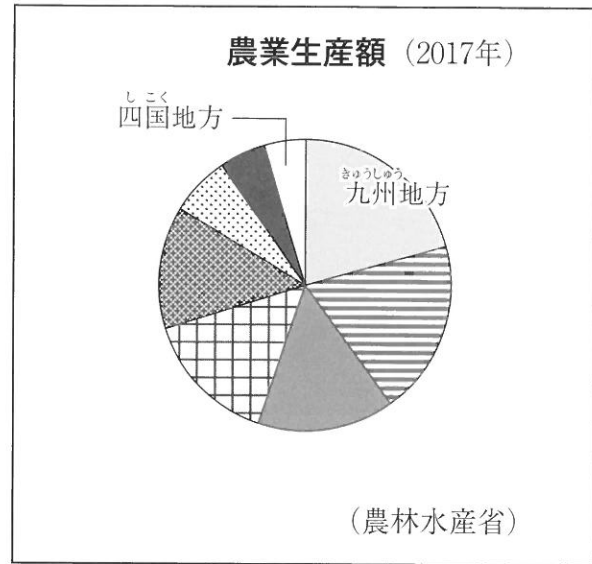
このように、食料を輸入に頼ること、つまり食料【 B 】率が低いことにはどのような問題があるのでしょうか。例えば、世界の人口は【 C 】しているのに、世界の耕地面積は横ばいであることから、日本が必要な量の食料を輸入できなくなるかもしれません。ほかにも、……

\* グラフはどちらも平成29年度食料需給表による



1 花子さんのクラスでは、教科書や資料集、地図帳を用いて、日本の産業の特徴について自由にまとめ、発表することになりました。下の問いに答えなさい。

問1 花子さんは、地方によって盛んな産業は異なるということに注目し、産業の特徴を地方別に明らかにすることにしました。地図帳の統計資料にもとづいて花子さんが描いたのは次の4つのグラフで、それぞれ、「農業生産額」「漁業生産額」「工業生産額」「年間商品販売額」の全国における総額に占める、各地方の割合を示しています。各地方に含まれる都道府県数は〈表〉の通りです。



〈表〉

地方	北海道地方	東北地方	関東地方	中部地方	近畿地方	中国地方	四国地方	九州地方
都道府県数	1	6	7	9	7	5	4	8

E  
 ア 物を買ったときに払った税金や、会社に勤めたり、商売をしたりしている人が払った税金は、国や地方公共団体に納められます。  
 イ 税金は、公共施設や道路などを整備するために使われています。また、お年寄りや障がいのある人を支援するなど、税金は私たちの暮らしのさまざまなところに使われています。

F  
 ア 災害救助法は、災害発生直後、地方公共団体、日本赤十字社などの団体、国民の協力のもとに、国が応急的に必要な救助活動を行い、被災者の保護や社会秩序の保全を行うための法律です。  
 イ 東日本大震災復興基本法は、東日本大震災からの復興についての基本理念を定めた法律で、震災から約3カ月後に成立しました。国は、この法律にもとづいた復興を計画的に進めるため、震災の翌年に復興庁設置法をつくり、復興庁を発足させました。

— このページは余白です。 —

— このページは余白です。 —

— このページは余白です。 —

— このページは余白です。 —

# 2023年度 入学試験問題

社 会

(答えはすべて解答用紙に書きなさい)

受験番号